

平成 26 年 度
開星高等学校入学試験問題

(第 3 限 11 : 40 ~ 12 : 30)

社 会

注 意

- 1 「始め」の合図があるまでは、開いてはいけません。
- 2 問題は全部で 4 題あり、7 ページまでです。
- 3 「始め」の合図があったら、まず、解答用紙に受験番号を書きなさい。
- 4 答えは、すべて解答用紙に書きなさい。
- 5 「やめ」の合図で、すぐ鉛筆をおき、解答用紙を裏返しにして机の上におきなさい。

【第1問題】 次の各問いの答えとして適切なものを、それぞれア～エの中から1つ
選び、記号で答えなさい。

- 問1 794年に都を平安京に移した人物は誰ですか。
ア 推古天皇 イ 後醍醐天皇 ウ 聖武天皇 エ 桓武天皇
- 問2 1885年に日本の初代総理大臣になった人物は誰ですか。
ア 伊藤博文 イ 板垣退助 ウ 福沢諭吉 エ 西郷隆盛
- 問3 江戸時代の後期に正確な日本地図を作成した人物は誰ですか。
ア 葛飾北斎 イ 伊能忠敬 ウ 歌川広重 エ 杉田玄白
- 問4 ロンドンはどここの国の首都ですか。
ア フランス イ イタリア ウ スペイン エ イギリス
- 問5 日本の最東端の島を何といいますか。
ア 沖ノ鳥島 イ 南鳥島 ウ 竹島 エ 択捉島
- 問6 茶の生産量が日本一の都道府県はどこですか。
ア 鳥取県 イ 熊本県 ウ 山梨県 エ 静岡県
- 問7 熱帯林が多く存在するブラジルの川を何といいますか。
ア ナイル川 イ アマゾン川 ウ インダス川 エ チグリス川
- 問8 メッカを中心として西アジアに多くの信者を持つ宗教を何といいますか。
ア イスラム教 イ 仏教 ウ ヒンズー教 エ キリスト教
- 問9 全国に最も多く置かれている裁判所はどれですか。
ア 高等裁判所 イ 家庭裁判所 ウ 簡易裁判所 エ 地方裁判所
- 問10 大気汚染を原因とする公害病はどれですか。
ア 四日市ぜんそく イ イタイイタイ病 ウ 新潟水俣病 エ 水俣病

【第2問題】 次の文章を読んで、後の各問いに答えなさい。

A 2013年10月、伊勢神宮は62回目の式年遷宮を迎えた。式年遷宮とは一定期間ごとに社殿を建て替え、神霊を旧社殿から新社殿に遷す儀式のことで、伊勢神宮では20年に1度行われている。伊勢神宮における式年遷宮の歴史は、B 飛鳥時代にまでさかのぼる。

壬申の乱で、皇位継承権を争った大海人皇子は、伊勢神宮を注1 遥拝して戦勝を祈願した。激闘の末に勝利を収めると、大海人皇子は天武天皇として即位したのち、神宮の遷宮制を確立したいと願った。だが、在位中には果たせず、その遺志は後の持統天皇に受け継がれ、690年に行われることとなった。これが式年遷宮の起源とされる。

C 室町後期に入ると戦乱で遷宮が途絶え、124年間の長きにわたって中断した。技術継承が途絶え、さまざまな伝統が失われることとなったが、江戸・明治期を通じて注2 古儀復興が進められ、D 1929年の式年遷宮が現在の形式の元となった。

注1 …遠くへだたった所から拜むこと 注2 …古い時代の儀式を復活させること

問1 下線部Aに関連した、次の1、2の問いに答えなさい。

- 1 この神宮は現在の何県にありますか。
- 2 同年5月に島根県で60年に1度の遷宮が行われたのはどこですか。

問2 下線部Bの時代に関連した、次の1～5の問いに答えなさい。

- 1 進んだ政治のしくみや文化を取り入れるために小野妹子らが派遣された国はどこですか。
- 2 下の建築物は、世界最古の木造建築として知られ、釈迦三尊像などがあります。この建築物について、①建築したと伝えられる人物、②建築物の名前をそれぞれ答えなさい。



- 3 中大兄皇子、中臣鎌足らが行った政治改革を何といいますか。
- 4 白村江の戦いで倭国はどこを支援するために参戦しましたか。次のア～エの中から1つ選び、記号で答えなさい。

ア 新羅 イ 渤海 ウ 高句麗 エ 百済

- 5 白村江の戦いでの敗戦後、沿岸部の防衛をした人のことを何といいますか。次のア～エの中から1つ選び、記号で答えなさい。

ア 豪族 イ 人夫 ウ 防人 エ 渡来人

問3 下線部Cの時代に関連した、次の1、2の問いに答えなさい。

- 1 次の年表の(a)～(e)にあてはまる語句を、下の語群の中から1つずつ選び記号で答えなさい。

年号	出来事
1543	種子島に(a)が伝わる
1549	ザビエルが(b)を伝える
1573	(c)が室町幕府を滅ぼす
1582	(d)が起こり(c)が自害する
(e)	関ヶ原の戦いが起こる


語群

ア キリスト教 イ 武田信玄 ウ 本能寺の変 エ 長篠の戦い オ 鉄砲
カ 1603 キ 香辛料 ク 織田信長 ケ 1600 コ イスラム教

- 2 豊臣秀吉が刀狩と太閤検地を徹底して行ったことによって、その後の社会にどのような変化をもたらしましたか。25字以内で答えなさい。

問4 下線部Dの年に関連した、次の1～3の問いに答えなさい。

- 1 下の写真は10月24日のニューヨークのウォール街の様子です。何があったか、次のア～エの中から1つ選び、記号で答えなさい。



- ア 大統領選挙 イ 国際連盟設立 ウ ワシントン会議 エ 株価暴落
- 2 1をきっかけに世界経済が悪化したことを何といいますか。漢字4字で答えなさい。
- 3 世界経済の悪化に対し、アメリカが行ったニューディール政策の説明としてふさわしいものを、次のア～エの中から1つ選び、記号で答えなさい。

ア 国内の農業生産を増強する政策
イ 大規模な公共事業を起こしたり、労働者の賃金を上げる政策
ウ 外国の商品に高い税をかけて国内からしめだす政策
エ 財閥が企業を支配する政策

【第3問題】 下の資料を見て、後の各問いに答えなさい。

資料

2012年住みたい町ランキング地域別ベスト3

地域	A 北海道	B 東北	D 関東	北陸・甲信越	東海
1位	北海道札幌市	宮城県仙台市	神奈川県 E 横浜市	(①) 県金沢市	(②) 県名古屋市
2位	北海道函館市	C 岩手県盛岡市	F 東京都世田谷区	富山県富山市	静岡県浜松市
3位	北海道小樽市	青森県青森市	神奈川県鎌倉市	長野県 G 安曇野市	静岡県富士市
地域	関西	中国	四国	H 九州・沖縄	
1位	京都府京都市	広島県広島市	(④) 県松山市	沖縄県那覇市	
2位	(③) 県神戸市	広島県尾道市	(⑤) 県高松市	沖縄県石垣市	
3位	大阪府大阪市	岡山県岡山市	高知県南国市	福岡県福岡市	

生活ガイド.com調べ

問1 (①) ~ (⑤) にあてはまる県名を答えなさい。

問2 下線部Aに古くから住み、独自の文化を持つ民族を何というか答えなさい。

問3 下線部Bに関連して、次の1、2の問いに答えなさい。

- 中央部に広がる山脈の名前は何か。
- 太平洋側で夏に吹く冷たい風のことを何といいますか。ひらがな3字で答えなさい。

問4 下線部Cで生産されている伝統的工芸品を、次のア～エの中から1つ選び、記号で答えなさい。

- ア 天童将棋駒 イ 南部鉄器 ウ 会津塗 エ 大館曲げわっぱ

問5 下線部Dを流れる日本で最も流域面積の大きい川の名前を次のア～エの中から1つ選び、記号で答えなさい。

- ア 信濃川 イ 北上川 ウ 多摩川 エ 利根川

問6 下線部Eに関連して、次の1、2の問いに答えなさい。

- この都市から東京都にかけて化学、鉄鋼、機械、自動車などの工場が広がる工業地帯を何といいますか。
- この都市や川崎市、千葉市など東京都の中心部と結びつきながら発展する都市のことを何といいますか。

問7 下線部Fに関連して、人口集中による都市問題としてふさわしくないものを、次のア～エの中から1つ選び、記号で答えなさい。

- ア 大気汚染 イ 高齢化 ウ 騒音 エ ごみの増加

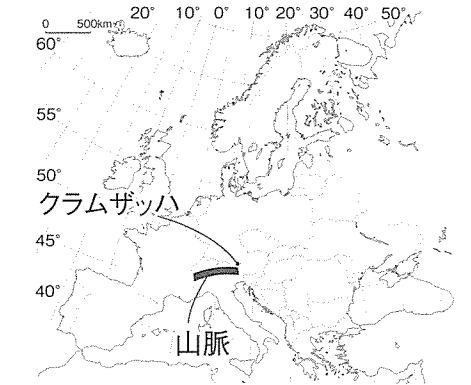
問8 下線部Gの姉妹・友好交流都市はオーストリアのクラムザッハである。このことについて、下の地図を参考にして、次の1～3の問いに答えなさい。

1 オーストリア南西部に連なる山脈を次のア～エの中から1つ選び、記号で答えなさい。

- ア アルプス山脈 イ アンデス山脈 ウ ロッキー山脈 エ ピレネー山脈

2 クラムザッハはおよそ東経15度付近にあります。日本(東経135度)が12月1日午前10時の時、クラムザッハは何月何日のおよそ何時であるか。次のア～エの中から1つ選び、記号で答えなさい。

- ア 11月30日午前2時 イ 11月30日午後6時
ウ 12月1日午前2時 エ 12月1日午後6時



3 オーストリアはEUに加盟していますが、下の表はEU加盟国と日本との国境を越えるときの違いを比較したものです。(a) ~ (e) にあてはまる語を、下の語群より選び記号で答えなさい。

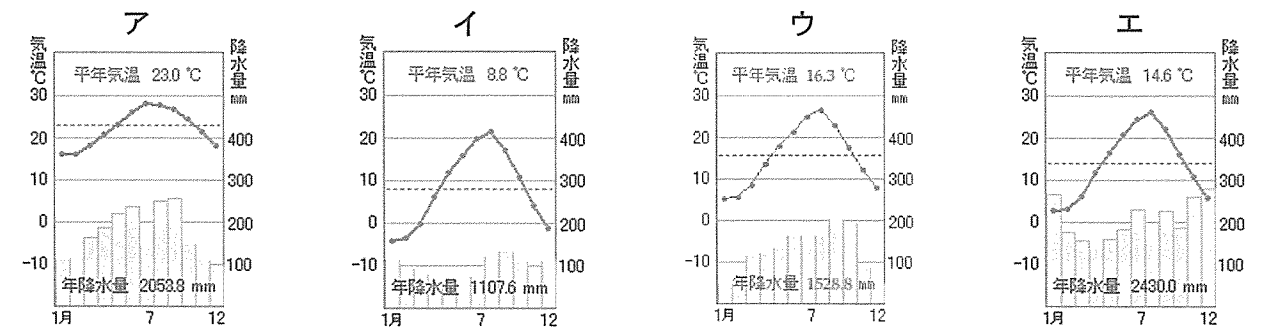
	日本の場合	EU加盟国内の場合
人の移動	(a) の手続きが行われ、(b) が必ず必要となる。またお金や時間がかかる。	国境を自由に行き来でき、(b) は必要なく、国境をまたいで買い物や通勤する人が多い。
物の移動	輸入品に (c) がかかる。	輸入品にかかる (c) がない。
お金の流れ	他の国でお金を使う場合には (d) をする必要がある。	多くの国で (e) という共通のお金が使われている。

語群

- ア ユーロ イ 住民登録 ウ 換金 エ パスポート オ 所得税
カ 小切手 キ 関税 ク 免許証 ケ ドル コ 出入国

問9 下線部Hに関連して、次の1～3の問いに答えなさい。

1 沖縄県の雨温図としてふさわしいものを、ア～エから1つ選び、記号で答えなさい。



2 九州南部の土地は稲作に向かず、主に畑作や畜産に利用されています。この地域の土地のことを何といいますか。

3 プロ野球のキャンプが多く行われる理由は暖流の影響で暖かいからです。この海流の名前を2つ答えなさい。

【第4問題】 次の文章を読んで、後の各問いに答えなさい。

今年の7月に行われた参議院議員の①選挙では、自由民主党が65議席を獲得し、自由民主党と公明党からなる（ a ）党は、非改選議席と合わせて、②参議院の議員数の過半数を大きく上回る135議席を獲得し、③衆議院と参議院のねじれ状態は解消された。一方で野党は（ b ）党が党を結成して以来最小の17議席にとどまり、日本維新の会とみんなの党はそれぞれ8議席と伸び悩んだ。

政策面では、④第二次安倍内閣の経済政策「（ c ）」の評価や⑤憲法改正などが争点となった。憲法改正を巡っては自由民主党、日本維新の会、みんなの党が改正を訴え、公明党は新たな理念・条文を加えることを訴えてきた。参議院選挙の結果、この4党と改正に賛成する非改選の2議員を合わせて、参議院で改正の発議に必要な総議員の（ d ）を超えた。

しかし、第二次安倍内閣には⑥TPPに関する問題や原子力発電所の賛否を巡る⑦エネルギー問題など、まだ解決していかなければならない課題も多く残されている。

問1 （ a ）、（ b ）にあてはまる語を答えなさい。

問2 （ c ）にあてはまる第二次安倍内閣の経済政策を何と呼んでいますか。カタカナで答えなさい。

問3 （ d ）にあてはまる語句を次のア～エの中から1つ選び、記号で答えなさい。

- ア 2分の1 イ 3分の1 ウ 3分の2 エ 4分の3

問4 下線部①に関連して、次の1～3の問いに答えなさい。

1 満20歳以上のすべての国民に選挙権が憲法によって保障されていることを何選挙といいますか。

2 衆議院議員の選挙の制度を何といいますか。次の□にあてはまる漢字8字を答えなさい。

「 □□□□□□□□並立制 」

3 参議院議員の任期は6年であるが、選挙は3年に1回行われる理由を20字以内で答えなさい。

問5 下線部②に関連して、次の1、2の問いに答えなさい。

1 参議院議員の被選挙権は何歳以上ですか。


2 参議院の議員数は何人ですか。

問6 次の文は下線部③の問題点をまとめたものです。（ 1 ）、（ 2 ）にあてはまる語句を下のア～エの中からそれぞれ1つずつ選び、記号で答えなさい。

衆議院と参議院がねじれ状態になると、（ 1 ）案の場合は、衆議院で可決されたとしても、参議院で否決される可能性が高くなり、そうすると衆議院に議案が戻された後、再度審議され、出席議員の（ 2 ）で再可決されなければならない。

- (1) ア 法律 イ 予算 ウ 条約 エ 内閣不信任
(2) ア 2分の1 イ 3分の1 ウ 3分の2 エ 4分の3

問7 下線部④に関連して、第二次安倍内閣の1つ前の内閣で総理大臣をしていた人物を次のア～エの中から1つ選び、記号で答えなさい。



問8 下線部⑤に関連して、次の1、2の問いに答えなさい。

1 自由権について、経済活動の自由にあたるものを次のア～エの中から1つ選び、記号で答えなさい。

- ア 思想の自由 イ 学問の自由 ウ 表現の自由 エ 職業選択の自由

2 生存権について、次の憲法の条文の（ A ）、（ B ）にあてはまる語を答えなさい。

すべて国民は、（ A ）で文化的な（ B ）の生活を営む権利を有する。

問9 下線部⑥に関連して、TPP（環太平洋戦略的経済連携協定）に日本が参加するとどのような問題が生じると考えられますか。次の2つの語を用いて、30字以内で答えなさい。

農業 輸入

問10 下線部⑦に関連して、現在、日本で最も多くの電力をまかなっているエネルギーを次のア～エの中から1つ選び、記号で答えなさい。

- ア 原子力 イ 風力 ウ 水力 エ 火力